

Za brak odpowiedzi uczeń otrzymuje zero punktów za dane zadanie.
Minimalna liczba punktów możliwych do uzyskania wynosi 0.
Maksymalnie można uzyskać 72 punkty.

Tu wpisz swoje
IMIĘ

Tu wpisz swoje
NAZWISKO


Czas: 45 minut

Doświadczenia do testu:


1. Mrok
2. Jak ci smakuje?

Zadania za 3 punkty


1. Które zwierzę jada ryby?




A)



B)



C)



D)

2. Aby ciasto urosło w piecu, trzeba dodać do mąki:

- A) cukru pudru
- B) proszku do pieczenia
- C) soli
- D) kakao

3. Światło powstające na niebie w czasie burzy to:

- A) grzmot
- B) błyskawica
- C) łomot
- D) odbłask

4. Który obrazek przedstawia łódź Wikingów?




A)



B)



C)



D)

5. Polska leży w:

- A) Ameryce
- B) Europie
- C) Azji
- D) Afryce

6. Mroku nie ma:


- A) w lesie po zachodzie słońca
- B) wieczorem po zgaszeniu światła
- C) na polanie po wschodzie słońca
- D) o północy

Zadania za 4 punkty

7. Czego potrzebuje drzewo, żeby rosnąć?

- A) powietrza, gleby, światła i wody
- B) tylko wody, powietrza i gleby
- C) tylko gleby, powietrza i światła
- D) tylko powietrza i światła

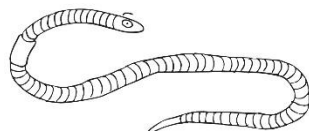
8. Które zwierzę najczęściej buduje kopce?



A)



B)



C)



D)

9. Kacper ma silny katar. Osłabił mu się:

- A) tylko węch
- B) tylko wzrok
- C) najbardziej wzrok i węch
- D) najbardziej węch i smak

10. Który z pojazdów jest najbardziej ekologiczny:

- A) motocykl
- B) autobus
- C) rower
- D) samochód

11. Która z tych planet znajduje się najbliżej Ziemi?

- A) Jowisz
- B) Saturn
- C) Uran
- D) Wenus

12. W elektrowni wytwarza się

- A) baterie elektryczne
- B) światło
- C) prąd
- D) żarówki

Zadania za 5 punktów

13. Postaw znak X obok każdego prawdziwego zdania:

Strych znajduje się wyżej od piwnicy.	<input type="checkbox"/>
Tramwaj jeździ po szynach.	<input type="checkbox"/>
Na zegarku ze wskazówkami jest 10 liczb.	<input type="checkbox"/>
Wieżowce to niskie budynki.	<input type="checkbox"/>

Ile zdań jest prawdziwych?

- A) 1
- B) 2
- C) 3
- D) 4

14. Ania przeczytała w Internecie taką prognozę pogody na następny dzień:

„Temperatura spadnie gwałtownie poniżej zera. Przewidywane roz pogodzenia”.

Czego Ania może się spodziewać?

- A) śniegu
- B) deszczu
- C) ładnej, mroźnej pogody
- D) pochmurnej, mroźnej pogody

15. W miejsce kropek wstaw wyraz pasujący do zdania:

„Człowiek nie przewraca się dzięki zmysłowi równowagi. Czujnikiem równowagi jest

- A) ręka
- B) noga
- C) błędnik
- D) trzustka

16. Na mapie północ jest u góry, a południe na dole. Na mapie Polski:

- A) morze jest na północy, a najwyższe góry – na południu
- B) morze jest na południu, a najwyższe góry – na północy
- C) morze i najwyższe góry są na południu
- D) morze i najwyższe góry są na północy

17. Które zdanie o dorosłych zwierzętach jest prawdziwe?

- A) Wieloryb jest lżejszy od delfina.
- B) Żyrafa jest cięższa od wieloryba.
- C) Krewetka jest cięższa od pantery.
- D) Pantera jest lżejsza od żyrafy.

18. Co się nie rozpuści we wrzątku?

- A) szczypta soli
- B) szczypta cukru
- C) białko jajka kurzego
- D) pół szklanki soku z cytryny