

Za brak odpowiedzi uczeń otrzymuje zero punktów za dane zadanie.  
Minimalna liczba punktów możliwych do uzyskania wynosi 0.  
Maksymalnie można uzyskać 72 punkty.

**Doświadczenia do testu:**

1. Spadanie
2. Karta na wodzie

**Czas: 45 minut****Zadania za 3 punkty****1. W aptece kupisz:**

- A) poledwicę
- B) obuwie
- C) bandaż
- D) pastele

**2. Który miesiąc ma mniej niż 30 dni?**

- A) styczeń
- B) luty
- C) czerwiec
- D) sierpień

**3. Przypomnij sobie doświadczenie ze spadaniem przedmiotów. Który przedmiot spadał najwolniej?**

- A) gumka do mazania
- B) kartka papieru zgnieciona w kulkę
- C) wyprostowana kartka papieru
- D) kawałek włóczki

**4. Przedmioty spadają na Ziemię, ponieważ przyciąga je siła:**


- A) hamująca
- B) tarcia
- C) magnetyczna
- D) grawitacji

**5. Co NIE powstaje z mleka?**


- A) masło
- B) majonez
- C) śmietana
- D) żółty ser

**6. Który ptak domowy czerwienieje, gdy się zdenerwuje?**


A)



B)



C)



D)

**Zadania za 4 punkty****7. Rok 2012 jest rokiem przestępnym. Następnym rokiem przestępnym będzie rok:**

- A) 2013
- B) 2016
- C) 2017
- D) 2022

8. Janek pojechał do swojej babci na wieś. Tego dnia po raz pierwszy po kilku miesiącach przerwy w gnieździe nad stodołą pojawiły się bociany. O jakiej porze roku Janek odwiedził babcię?


- A) wiosną
- B) latem
- C) zimą
- D) jesienią

9. Który pojazd często wiezie dużo wody?



- A)
- B)
- C)
- D)

10. Rozwiąż rebus:



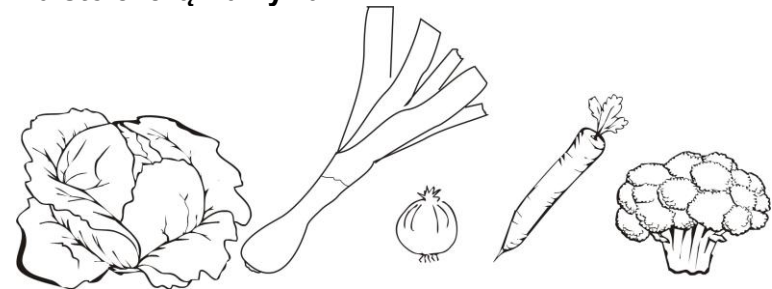
Wyraz ten oznacza:

- A) skorupiaka żyjącego w czystych rzekach i jeziorach
- B) metalowe kolce ułatwiające chodzenie po śniegu
- C) miasto na południu Polski
- D) pojazd latający

11. Podczas wycieczki do zoo Pani podzieliła wszystkich uczniów na zespoły: dwie grupy po troje dzieci i trzy grupy po dwoje dzieci. Ilu uczniów było na wycieczce?

- A) 5
- B) 6
- C) 10
- D) 12

12. Na stole leżą warzywa:



W nazwach ilu z nich jest literka „r”?

- A) 1
- B) 2
- C) 3
- D) 4


Zadania za 5 punktów

13. Jadąc na wakacje, Franek dostał pieniądze: cztery po 1 zł, trzy po 2 zł, dwa po 5 zł, jeden 10 zł i dwa 20 zł. Ile monet miał Franek?

- A) 3
- B) 7
- C) 9
- D) 12

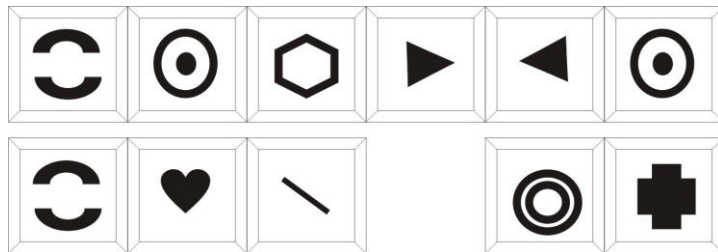
14. Odczytaj szyfr. Dokończ zaszyfrowane zdanie.

Alfabet:



E	I	K	L	O	Ó	T	W	Z
---	---	---	---	---	---	---	---	---

Szyfr:



- A) planeta
- B) gwiazda
- C) zbiór planet
- D) zbiór gwiazd

15. Przypomnij sobie doświadczenie z kartą na wodzie.  
Kiedy potrzeba było **najwięcej** monet, aby zatopić kartę?

- A) gdy karta leżała na tafli czystej wody
- B) gdy karta leżała na tafli wody z mydłem
- C) po dodaniu detergentu do wody
- D) gdy na tafli wody zrobiła się piana





16. Kopciuszkowi kazano oddzielić pestki jabłek od ziarenek piasku. Pestek było bardzo dużo. Aby szybko skończyć pracę, Kopciuszek powinien:

- A) wybierać palcami pestkę po pestce
- B) przesiać pestki z piaskiem przez sitko
- C) użyć magnesu
- D) użyć łyżki

17. Pewnego dnia Julka napisała notatkę o pogodzie:

„Wczoraj padał śnieg, a jutro ma być pogodnie i będzie to najcieplejszy dzień w tym tygodniu.”



Prognoza pogody na cały tydzień została zapisana w tabelce.

PONIEDZIAŁEK	WTOREK	ŚRODA	CZWARTEK	PIĄTEK	SOBOTA	NIEDZIELA
						
-2°C	-3°C	-4°C	-2°C	-1°C	0°C	1°C

W którym dniu Julka napisała swoją notatkę?

- A) we wtorek
- B) w piątek
- C) w sobotę
- D) w niedzielę

18. Każdy obrazek został podzielony na kolumny z numerkami. Znajdź 5 szczegółów, którymi różnią się te dwa obrazki. Odczytaj numery kolumn, w których znajdują się te szczegóły i otocz je kółeczkami w tabelce pod obrazkami. Przeczytaj po kolei od lewej do prawej litery pod kółeczkami w tabelce. W ten sposób utworzysz wyraz z pięciu liter. Znajdź w odpowiedziach, co on oznacza.



1	2	3	4	5	6	7	8	9	10	11	12	13	14	15
S	L	B	M	I	A	U	R	L	K	W	C	A	N	T

Wyraz utworzony w tabelce oznacza:

- A) kwiat ozdobny
- B) gąsienicę motyla
- C) gęstą ciecz z wulkanu
- D) kolor